



Autarquia criada pela lei municipal, n.º 1.612
Regulamentada pelo Decreto n.º. 1955 (25/06/1987)
CNPJ n.º. 57.725.681/0001-72.



Prefeitura de
Bebedouro

Fone: (17) 3345-9366

Site: www.imesb.br | E-mail: secretaria@imesb.br

Facebook: www.facebook.com/imesb | Twitter: www.twitter.com/imesbvc

Rua Nelson Domingos Madeira, 300 – Parque Eldorado - Bebedouro/SP – CEP: 14706-124

CONCURSO PÚBLICO – EDITAL Nº 01/2018

Cargo: Auxiliar Administrativo

Caderno de Questões

Inscrição:

NOME:

* Obrigatório preenchimento desse quadro

INSTRUÇÕES PARA REALIZAÇÃO DA PROVA

LEIA COM MUITA ATENÇÃO

- 1) Coloque seu nome no quadro marcado na capa do presente caderno de questões.**
- 2) Este caderno contém 60 (sessenta) questões com 4 (quatro) alternativas cada uma.
- 3) Assinale, com caneta esferográfica de tinta azul ou preta, apenas uma alternativa para cada questão.
- 4) Será considerado aprovado o candidato que obtiver nota igual ou superior a 70% (setenta por cento) do total de pontos da prova.
- 5) Será anulada a questão em que for assinalada mais de uma alternativa, ou que estiver totalmente em branco.
- 6) Não será permitido ao candidato entrar e/ou permanecer na sala de provas portando qualquer tipo de arma, aparelho digital ou eletrônico (bip, telefones celulares, pagers, walkman, agenda eletrônica, notebook, *palmtop*, handheld, receptor, gravador, máquina fotográfica, máquina de calcular, *pager*, relógios com qualquer uma das funções anteriormente citadas, etc.).
- 7) Durante a realização das provas é vedada a comunicação entre candidatos, bem como o uso de livros, revistas, folhetos, anotações, equipamento digital ou eletrônico, óculos escuros ou quaisquer acessórios de chapelaria, tais como chapéu, boné, gorro, ou outros materiais similares.
- 8) A Comissão de Concursos não se responsabilizará pela guarda de quaisquer materiais dos candidatos, pois não dispõe de guarda-volumes.
- 9) Conferir os dados da etiqueta personalizada no cartão resposta.
- 10) Conferir se o presente caderno contém 60 questões com quatro alternativas cada uma.
- 11) A duração da prova é de 4 (quatro) horas.
- 12) O Candidato somente poderá retirar-se da sala depois de decorridos 2 (duas) horas do início da prova.
- 13) É proibido sair com o cartão de resposta ou com o caderno de provas.

Questão 01**Projeto Tamar**

O Projeto Tamar foi criado em 1980, pelo antigo Instituto Brasileiro de Desenvolvimento Florestal-IBDF, que mais tarde se transformou no Ibama-Instituto Brasileiro de Meio Ambiente. Hoje, é reconhecido internacionalmente como uma das mais bem-sucedidas experiências de conservação marinha e serve de modelo para outros países, sobretudo porque envolve as comunidades costeiras diretamente no seu trabalho socioambiental.

Pesquisa, conservação e manejo das cinco espécies de tartarugas marinhas que ocorrem no Brasil, todas ameaçadas de extinção, é a principal missão do Tamar, que protege cerca de 1.100km de praias, em 26 localidades em áreas de alimentação, desova, crescimento e descanso desses animais, no litoral e ilhas oceânicas, em nove estados brasileiros.

O nome Tamar foi criado a partir da combinação das sílabas iniciais das palavras *tartaruga marinha*, abreviação que se tornou necessária, na prática, por conta do espaço restrito para as inscrições nas pequenas placas de metal utilizadas na identificação das [tartarugas marcadas](#) para diversos estudos.

Desde então, a expressão *Tamar* passou a designar o Programa Nacional de Conservação de Tartarugas Marinhas, executado em cooperação entre o Centro Brasileiro de Proteção e Pesquisa das Tartarugas Marinhas-Centro Tamar, vinculado à Diretoria de Biodiversidade do Instituto Chico Mendes da Biodiversidade-ICMBio, órgão do Ministério do Meio Ambiente, e a Fundação Pró-Tamar, instituição não governamental, sem fins lucrativos, fundada em 1988 e considerada de Utilidade Pública Federal desde 1996.

A Fundação Pró-Tamar foi criada para executar o trabalho de conservação das tartarugas marinhas, como responsável pelas atividades do Projeto Tamar nas áreas administrativa, técnica e científica; pela captação de recursos junto à iniciativa privada e agências financiadoras; e pela gestão do programa de autossustentação. Essa união do governamental com o não governamental revela a natureza institucional híbrida do Projeto.

O Tamar conta com patrocínio nacional da Petrobras, através do Programa Petrobras Socioambiental, apoios e patrocínios regionais de governos estaduais e prefeituras, empresas e instituições nacionais e internacionais, além de organizações não governamentais. Mas é fundamental, sobretudo, o papel das comunidades

litorâneas onde está presente e da sociedade civil em geral, que participa e colabora com o Projeto, individual e coletivamente.

Disponível em:
<http://www.tamar.org.br/interna.php?cod=63->
Acesso em 17 de maio 2018.

A expressão híbrida em “Essa união do governamental com o não governamental revela a natureza institucional **híbrida** do Projeto.”, o termo destacado é corretamente substituído, sem prejuízo de sentido, por:

- Pura
- Simple
- Genuína
- Heterogênea

Questão 02

Assinale a alternativa onde todas as palavras são proparoxítonas:

- prática, técnica, científica e sílabas
- está, além, patrocínios, litorâneas
- agência, área e técnica, países
- espécies, área, sílabas e necessária

Questão 03**Rosa-dos-ventos****Chico Buarque**

E do amor gritou-se o escândalo
Do medo criou-se o trágico
No rosto pintou-se o pálido
E não rolou uma lágrima
Nem uma lástima para socorrer
E na gente deu o hábito
De caminhar pelas trevas
De murmurar entre as pregas
De tirar leite das pedras
De ver o tempo correr
Mas sob o sono dos séculos
Amanheceu o espetáculo
Como uma chuva de pétalas
Como se o céu vendo as penas
Morresse de pena
E chovesse o perdão
E a prudência dos sábios
Nem ousou conter nos lábios
O sorriso e a paixão
Pois transbordando de flores
A calma dos lagos zangou-se
A rosa-dos-ventos danou-se
O leite do rio fartou-se
E inundou de água doce
A amargura do mar
Numa enchente amazônica
Numa explosão atlântica

E a multidão vendo em pânico
 E a multidão vendo atônita
 Ainda que tarde
 O seu despertar
 Disponível em:
<https://www.cifraclub.com.br/chico-buarque/45168/letra/> - Acesso em 17 de maio de 2018.

Há presença de metáfora no seguinte verso:

- Numa enchente amazônica
- E a multidão vendo atônita
- De tirar leite de pedras
- E a prudência dos sábios

Leia o texto para responder as questões 04, 05, 06 e 07

Educação: reprovada

Há quem diga que sou otimista demais. Há quem diga que sou pessimista. Talvez eu tente apenas ser uma pessoa observadora habitante deste planeta, deste país. Uma colunista com temas repetidos, ah, sim, os que me impactam mais, os que me preocupam mais, às vezes os que me encantam particularmente. Uma das grandes preocupações de qualquer ser pensante por aqui é a educação. Fala-se muito, grita-se muito, escreve-se, haja teorias e reclamações. Ação? Muito pouca, que eu perceba. Os males foram-se acumulando de tal jeito que é difícil reorganizar o caos.

Há coisa de trinta anos, eu ainda professora universitária, recebíamos as primeiras levas de alunos saídos de escolas enfraquecidas pelas providências negativas: tiraram um ano de estudo da meninada, tiraram latim, tiraram francês, foram tirando a seriedade, o trabalho: era a moda do “aprender brincando”. Nada de esforço, punição nem pensar, portanto recompensas perderam o sentido. Contaram-me recentemente que em muitas escolas não se deve mais falar em “reprovação, reprovado”, pois isso pode traumatizar o aluno, marcá-lo desfavoravelmente. Então, por que estudar, por que lutar, por que tentar?

De todos os modos facilitamos a vida dos estudantes, deixando-os cada vez mais despreparados para a vida e o mercado de trabalho. Empresas reclamam da dificuldade de encontrar mão de obra qualificada, médicos e advogados quase não sabem escrever, alunos de universidades têm problemas para articular o pensamento, para argumentar, para escrever o que pensam. São de certa forma, analfabetos. Aliás, o analfabetismo devasta este país. Não é alfabetizado quem sabe assinar o nome, mas quem o sabe assinar embaixo

de um texto que leu e entendeu. Portanto, a porcentagem de alfabetizados é incrivelmente baixa.

Agora sai na imprensa um relatório alarmante. Metade das crianças brasileiras na terceira série do elementar não sabe ler nem escrever. Não entende para o que serve a pontuação num texto. Não sabe ler horas e minutos num relógio, não sabe que centímetro é uma medida de comprimento. Quase a metade dos mais adiantados escreve mal, lê mal, quase 60% têm dificuldades graves com números. Grande contingente de jovens chega às universidades sem saber redigir um texto simples, pois não sabem pensar, muito menos expressar-se por escrito. Parafraseando um especialista, estamos produzindo estudantes analfabetos.

Naturalmente, a boa ou razoável escolarização é muito maior em escolas particulares: professores menos mal pagos, instalações melhores, algum livro na biblioteca, crianças mais bem alimentadas e saudáveis – pois o estado não cumpre o seu papel de garantir a todo cidadão (especialmente a criança) a necessária condição de saúde, moradia e alimentação.

Faxinar a miséria, louvável desejo da nossa presidenta, é essencial para nossa dignidade. Faxinar a ignorância – que é uma outra forma de miséria – exigiria que nos orçamentos da União e dos estados a educação, como a saúde, tivesse uma posição privilegiada. Não há dinheiro, dizem. Mas políticos aumentam seus salários de maneira vergonhosa, a coisa pública gasta nem se sabe direito onde, enquanto preparamos gerações de ignorantes, criados sem limites, nada lhes é exigido, devem aprender brincando. Não lhes impuseram a mais elementar disciplina, como se não soubéssemos que escola, família, a vida, sobretudo se constroem em parte de erro e acerto, e esforço. Mas, se não podemos reprovar os alunos, se não temos mesas e cadeiras confortáveis e teto sólido sobre nossa cabeça nas salas de aula, como exigir aplicação, esforço, disciplina e limites, para o natural crescimento de cada um?

Cansei de falas grandiloquentes sobre educação, enquanto não se faz quase nada. Falar já gastou, já cansou, já desiludiu, já perdeu a graça. Precisamos de atos e fatos, orçamentos em que educação e saúde (para poder ir à escola, prestar atenção, estudar, render e crescer) tenham um peso considerável: fora isso, não haverá solução. A educação brasileira continuará, como agora, escandalosamente reprovada.

Disponível em:
<https://veja.abril.com.br/blog/augusto-nunes/8216-educacao-reprovada-8217-um-artigo-de-lya-luft/> -
 Acesso em 18 de maio de 2018.

Questão 04

A ideia central do texto é:

- a) A preocupação com a educação brasileira.
- b) os políticos aumentarem seus salários vergonhosamente.
- c) Alunos despreparados para o mercado de trabalho.
- d) A falta de disciplina dos jovens.

Questão 05

Com base na leitura do texto, analise as frases a seguir para responder à questão:

- I) “Quase a metade dos mais adiantados escreve mal, lê mal, quase 60% têm dificuldades graves com números.”
- II) “Há coisa de trinta anos, eu ainda professora universitária, recebíamos as primeiras levas de alunos saídos de escolas enfraquecidas...”
- III) “Cansei de falas grandiloquentes sobre educação, enquanto não se faz quase nada.”
- IV) “A educação brasileira continuará, como agora, escandalosamente reprovada.”

A opinião da autora encontra-se expressa em:

- a) I e II
- b) II e III
- c) II e IV
- d) III e IV

Questão 06

Assinale a alternativa onde todas as palavras são verbos:

- a) educação, cansei, observadora, colunista
- b) considerável, aplicação, confortáveis, poder
- c) tenham, ignorantes, precisamos, reprovada
- d) reorganizar, recebíamos, tiraram, haverá

Questão 07

Assinale os períodos cujos verbos destacados estão no presente do indicativo:

- I. Há quem diga que **sou** otimista demais.
- II. **Cansei** de falas grandiloquentes sobre educação, enquanto não se faz quase nada.
- III. A educação brasileira **continuará**, como agora, escandalosamente reprovada.
- IV. Quase a metade dos mais adiantados **escreve** mal, lê mal, quase 60% têm dificuldades graves com números.
- V. [...Mas, se não **podemos** reprovar os alunos, se não temos mesas e cadeiras confortáveis...]

Estão corretas:

- a) I, II e V.
- b) I e IV e V.
- c) Apenas IV.
- d) II, III e IV.

Leia o texto e responda às questões 08 e 09

O Menino do Pijama Listrado



Data de lançamento 12 de dezembro de 2008 (1h 30min)

Direção: Mark Herman

Elenco: Asa Butterfield, Vera Farmiga, David Thewlis

Gênero: Drama

Nacionalidades: EUA, Reino Unido

Título original: The Boy in the Striped Pyjamas

Distribuidor: IMAGEM FILMES

Ano de produção: 2008

Tipo de filme: longa-metragem

Idiomas: Inglês

Minha nota: _____



DETALHES

Alemanha, Segunda Guerra Mundial. O menino Bruno (Asa Butterfield), de 8 anos, é filho de um oficial nazista (David Thewlis) que assume um cargo importante em um campo de concentração. Sem saber realmente o que seu pai faz, ele deixa Berlim e se muda com a mãe (Vera Farmiga) para uma área isolada, onde não há muito o que fazer para uma criança com a idade dele. Os problemas começam quando ele decide explorar o local e acaba conhecendo Shmuel (Jack Scanlon), um garoto de idade parecida, que vive usando um pijama listrado e está sempre do outro lado de uma cerca eletrificada. A amizade cresce entre os dois e Bruno passa, cada vez mais, a visitá-lo, tornando essa relação mais perigosa do que eles imaginam.

Disponível em:

<http://www.adorocinema.com/filmes/filme-135215/> - Acesso em 19 de maio de 2018.

Questão 08

O principal objetivo da sinopse acima é:

- Apresentar fatos referentes à vida do diretor Mark Herman.
- Descrever os filmes pertencentes ao gênero Drama.
- informar sobre o enredo, personagens e avaliação do filme.
- Trazer dicas sobre o elenco e final da história do filme

Questão 09

Na frase: “Os problemas começam quando *ele* decide explorar o local e acaba conhecendo Shmuel (Jack Scanlon), um garoto de idade parecida, que vive usando um pijama listrado e está sempre do outro lado de uma cerca eletrificada..” O termo em destaque refere-se:

- Mãe
- oficial nazista
- menino Bruno
- Shmuel

Leia o texto para responder à questão 10



Disponível

em:

<http://www.chongas.com.br/2012/05/o-que-o-brasil-quer/> - Acesso em: 19 de maio de 2018.

Questão 10

A charge acima faz uma crítica:

- Ao desinteresse do brasileiro em lutar por um país mais justo
- Aos conflitos e violência que prevalecem na Líbia.
- A luta dos tunisianos pela proteção aos direitos humanos.
- Ao ritmo dançante preferido pelos brasileiros.

Leia o texto e responda à questão 11

O Poeta da Roça

Patativa do Assaré

Sou fio das mata, cantô da mão grosa
Trabaio na roça, de inverno e de estio
A minha chupana é tapada de barro
Só fumo cigarro de paia de mio

Sou poeta das brenha, não faço o papé
De argum menestrê, ou errante cantô
Que veve vagando, com sua viola
Cantando, pachola, à percura de amô

Não tenho sabença, pois nunca estudei
Apenas eu seio o meu nome assiná
Meu pai, coitadinho! vivia sem cobre
E o fio do pobre não pode estudá

Meu verso rastero, singelo e sem graça
Não entra na praça, no rico salão
Meu verso só entra no campo da roça e do eito
E às vezes, recordando feliz mocidade
Canto uma sodade que mora em meu peito

Disponível

em:

<https://www.letras.mus.br/patativa-do-assare/872145/> - Acesso em 19 de maio de 2018.

Questão 11

Com base na leitura do texto, analise as frases a seguir para responder a questão:

- Não entra na praça, no rico salão
- E às vezes, recordando feliz mocidade
- Trabaio na roça, de inverno e de estio
- E o fio do pobre não pode estudá
- Canto uma sodade que mora em meu peito

As expressões que diferem das normas urbanas de prestígio encontram-se expressas em:

- I, II e III
- II, III e IV
- I, III e IV
- III, IV e V

Questão 12

Analise as afirmativas identificando com “V” as VERDADEIRAS e com “F” as FALSAS, assinalando a seguir a alternativa CORRETA, na sequência de cima para baixo.

- () A redação oficial deve caracterizar-se pela impessoalidade, objetividade e clareza.
 () A redação oficial caracteriza-se pelo uso da linguagem coloquial.
 () As comunicações oficiais devem ser sempre formais e requerem o uso da norma culta da língua.
 () A concisão e a formalidade não são consideradas qualidades do texto oficial.
 () Na redação oficial é permitido o uso de gíria e jargão.

- a) V – F – V – F – F.
 b) F – V – V – V – F.
 c) V – F – V – V – F.
 d) V – V – F – V – F.

Questão 13

Considere as afirmações:

- I- A linguagem usada no Aviso é excessivamente formal.
 II - O Ofício é expedido por órgão público e trata de assunto de ordem administrativa, destinado a outro órgão público ou a particulares.
 III - O Memorando é um tipo de comunicação interna veiculada entre as unidades administrativas de órgãos públicos e empresas.
 IV- O E-mail por ser uma comunicação eletrônica necessita de formulário próprio.

Assinale a alternativa correta:

- a) todas as afirmações estão corretas
 b) estão corretas as informações II e III
 c) está correta apenas a informação IV;
 d) está correta apenas a informação III;

Questão 14

Assinale a alternativa cujas palavras estão todas corretamente grafadas:

- a) ultrassom, micro-ônibus, autoescola, contrarregra, superinteressante
 b) ultra-som, micro-ônibus, auto-escola, contraregra, super-interessante
 c) ultrassom, microônibus, autoescola, contra-regra, super-interessnte
 d) ultra-som, microônibus, auto-escola, contra-regra, superinteressante

Questão 15


Complete as lacunas:

.....quinze anos que me aposentei.
 Não.....livros novos nas estantes.
 Não.....documentos no cofre.

- a) Fazem - existe- haviam
 b) Faz – existem – havia
 c) Faz– existe – haviam
 d) Fazem – existe - haviam

Questão 16

Leia o texto e responda à questão



Disponível

em:

<http://sobreasletras.blogspot.com.br/2011/05/>

Acesso em 20 de maio de 2018.

Podemos dizer que na quadrinha acima há a presença de:

- a) Citação
 b) Paralelismo
 c) Metonímia
 d) Ambiguidade

Questão 17

Assinale os gêneros textuais que circulam dentro da esfera jurídica:

- a) Artigos, Relato Histórico, Conferência, Relatório, Debate, Palestra, Verbetes, Pesquisas.
- b) Boletim de Ocorrência, Constituição Brasileira, Leis, Contrato, Declaração de Direitos, Depoimentos, Regimentos, Discurso de Acusação, Discurso de Defesa.
- c) Anúncio, Cartazes, Placas, Comercial para TV, Publicidade Comercial, E-mail, Folder, Fotos, Texto Político, Slogan.
- d) Romances, Contos, Narrativas de Enigma, Crônicas, Fábulas, Haicai, Poemas, Lendas, Literatura de Cordel.

Questão 18

Assinale a alternativa onde não há paralelismo semântico

- a) João gosta de livros de aventura e de ficção.
- b) João fez tarefas de História e Geografia.
- c) João joga futebol e rugby toda semana.
- d) João gosta de cinema e de macarrão.

Questão 19

As frases abaixo apresentam problemas de paralelismo. **EXCETO** na alternativa:

- a) Os bebês necessitam de amor e de ter bons alimentos.
- b) O bom aluno se dedica no trabalho e também na escola.
- c) Paulo descobriu que você é culta e esforçada.
- d) Os livros iluminam as nossas vidas e tornam elas mais fácil.

Questão 20

Assinale a alternativa correta:

- a) Preferia estudar do que trabalhar.
- b) Preferia estudar a trabalhar.
- c) Preferia mais estudar a trabalhar
- d) Preferia estudar à trabalhar.

Questão 21

A prefeitura de uma cidade resolveu ajudar a população com falta de água utilizando-se de um caminhão-pipa com capacidade de L litros de água. Após sair do posto de abastecimento de água com o tanque cheio, o caminhão-pipa deixa $\frac{3}{4}$ de sua

capacidade na casa X , $\frac{3}{10}$ do restante na casa Y e

7.000 litros que sobrou na casa Z . A capacidade L do caminhão-pipa é:

- a) 15.000 L

- b) 40.000 L

- c) 30.000 L

- d) Nenhuma das alternativas anteriores

Questão 22

De acordo com o sistema linear $\begin{cases} 2x+7y=0 \\ 3x-y=0 \end{cases}$, não

podemos dizer que:

- a) $(0,0)$ é uma solução
- b) o sistema tem solução
- c) $(2,5)$ é uma solução
- d) $(-1,-3)$ não é solução

Questão 23

Dada a sequência de números 1, 10, 8, 6, 3, 12, 8 e 2, podemos dizer que:

- a) a média é 5, a mediana é 6,5 e a moda é 2
- b) a média é 6,25, a mediana é 7 e a moda é 8
- c) a média é 6, a mediana é 7 e a moda é 12
- d) a média é maior que a moda

Questão 24

Se $MDC(a,b) = 4$ e $a.b = 28$, então:

- a) $MMC(a,b) = 2$
- b) $MMC(a,b)$ não existe
- c) $MMC(a,b) = 24$
- d) $MMC(a,b) = 7$

Questão 25

O sistema linear $\begin{cases} 5x+3y=-19 \\ 3x-4y=6 \end{cases}$:

- a) tem infinitas soluções
- b) x e y têm sinais contrários
- c) $x - y = 1$
- d) $x.y = -6$

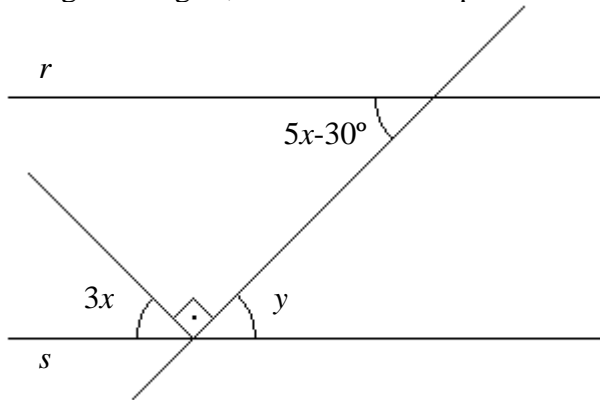
Questão 26

Um terreno foi dividido entre os cinco membros de uma família em 475 m^2 para o membro de 20 anos de idade, 361 m^2 para o membro de 30 anos de idade, 342 m^2 para o membro de 45 anos de idade, 190 m^2 para o membro de 58 anos de idade, 152 m^2 para o membro de 69 anos de idade, e mais uma área de recreação a todos os membros de 76 m^2 que deverá ser dividida em partes proporcionais à área que recebeu. Nestas condições, o membro de 20 anos de idade terá direito a quantos m^2 da área de recreação?

- a) $23,75 \text{ m}^2$
- b) $20,25 \text{ m}^2$
- c) 15 m^2
- d) $33,15 \text{ m}^2$

Questão 27

Na figura a seguir, as retas r e s são paralelas:



Podemos afirmar que:

- a) $x + y = 60$
- b) $y - x = 45$
- c) $x + y = 135$
- d) Não tem solução

Questão 28

O sistema linear $\begin{cases} 2x+5y=14 \\ 3x+4y=14 \end{cases}$:

- a) Não tem solução
- b) A solução é tal que $x - y = 14$
- c) $(4, 5)$ é solução
- d) Nenhuma das alternativas anteriores

Questão 29

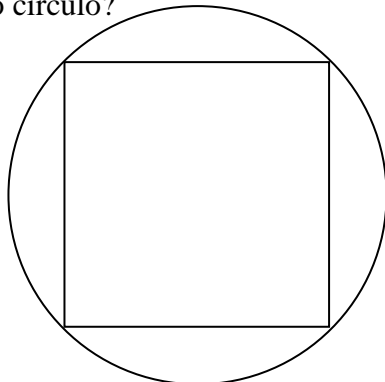
Podemos afirmar que na equação $|x - 4| = 3$:

- a) A solução é vazia
- b) 1 é solução
- c) -7 é solução
- d) 7 não é solução

Questão 30

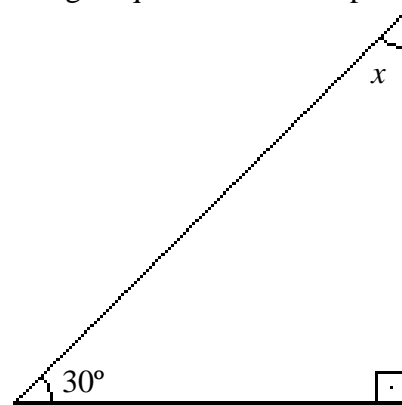
Na figura que se segue temos um quadrado de área igual a 16 cm^2 inscrito na circunferência. Quanto mede metade da área do círculo?

- a) $4\pi \text{ cm}^2$
- b) $10\pi \text{ cm}^2$
- c) $12\pi \text{ cm}^2$
- d) $20\pi \text{ cm}^2$



Questão 31

Na figura a seguir quanto mede o triplo de x :



- a) 60°
- b) 120°
- c) 45°
- d) 180°

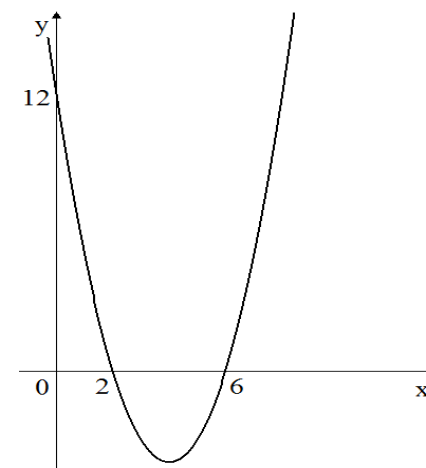
Questão 32

O conjunto dos números reais x para os quais a expressão $f(x) = \frac{x-4}{\sqrt{2x-10}}$ está definida é igual a:

- a) $\{x \in \mathbb{R} \mid x \neq 10\}$
- b) $\{x \in \mathbb{R} \mid x \neq 5\}$
- c) $\{x \in \mathbb{R} \mid x > 5\}$
- d) $\{x \in \mathbb{R} \mid x < 5\}$

Questão 33

O gráfico abaixo tem como função:



- a) $f(x) = 2x^2 + 6x + 12$
- b) $f(x) = x^2 + 8x + 12$
- c) $f(x) = 12x^2 - 8x + 2$
- d) $f(x) = x^2 - 8x + 12$

Questão 34

A inequação $|x - 7| \leq 5$ é tal que:

- a) $x = 0$
- b) $x < -13$
- c) $2 \leq x \leq 13$
- d) $x > 15$

Questão 35

O percentual de não fumantes de uma cidade é 28%. Se 81.000 pessoas dessa cidade fumam, qual o número de habitantes da cidade?

- a) 115.200
- b) 112.500
- c) 115.500
- d) 112.200

Questão 36

A função definida por:

$$f: \mathbb{R} \rightarrow \mathbb{R}$$

$$f(x) = x^2 - 3x + 7$$

é tal que:

- a) intercepta o eixo dos x em dois pontos distintos
- b) intercepta o eixo dos x em dois pontos iguais
- c) intercepta o eixo dos x em um único ponto
- d) não intercepta o eixo dos x

Questão 37

O número $6k35$, com algarismo $0 \leq k \leq 9$, é divisível por 3 para:

- a) $k = 6$
- b) $k \in \{1, 4, 7\}$
- c) $k \in \{0, 3, 9\}$
- d) $k \in \{2, 5\}$

Questão 38

Se as grandezas x e y são diretamente proporcionais, então dada a tabela:

X	5	a	10
Y	2	8	b

podemos dizer que:

- a) a e b são pares
- b) $a < b$
- c) $a = 4$ e $b = 20$
- d) Nenhuma das alternativas anteriores

Questão 39

A equação $x - 15 = x + 7$:

- a) tem solução única
- b) $x = 22$
- c) $x = 0$
- d) tem solução vazia

Questão 40

Um pasto regular de 82,5m por 4124cm será cercado com três voltas de arame. Se cada rolo de arame tem 12,5m então serão necessários:

- a) 59 rolos;
- b) 20 rolos;
- c) 60 rolos;
- d) 601 rolos;

Questão 41

No Microsoft Word 2016 a combinação de teclas que permite selecionar tudo em um documento é

- a) CTRL+T
- b) CTRL+W
- c) CTRL+D
- d) CTRL+A

Questão 42

No Microsoft Word a combinação de teclas que permite desfazer a última alteração em um documento é:

- a) CTRL+K
- b) CTRL+D
- c) CTRL+X
- d) CTRL+Z

Questão 43

Trabalhando com Linux para criar apresentações multimídias por meio da suíte de aplicativos BROffice, é necessário utilizar o aplicativo

- a) Writer.
- b) Impress.
- c) Calc.
- d) Power point.

Questão 44

Trabalhando com Linux no processamento de texto e editoração eletrônica por meio da suíte de aplicativos BROffice, é necessário utilizar o aplicativo

- a) Writer.
- b) Impress.
- c) VLC media player.
- d) Gimp.

Questão 45

Para pesquisar uma palavra específica em uma página da internet utilizando o navegador Google Chrome podemos pressionar a tecla

- a) F1.
- b) F2.
- c) F3.
- d) F4.

Questão 46

Analise a seguinte tela do Windows Explorer e assinale a alternativa correta



- O arquivo "Comprovante de inscrição.pdf" possui tamanho de 80 MB.
- O arquivo "Comprovante de inscrição.pdf" está contido na pasta “Blocos de anotações do OneNote”.
- O arquivo "Comprovante de inscrição.pdf" está contido na pasta “Modelos Personalizados do Office”.
- O arquivo "Comprovante de inscrição.pdf" foi modificado no dia 13/04/2018.

Questão 47

Para imprimir uma página da internet utilizando o navegador Firefox podemos pressionar a seguinte combinação de teclas

- Ctrl + F
- Ctrl + P
- Ctrl + B
- Ctrl + I

Questão 48

Os componentes físicos do computador recebem o nome de hardware. Com base nesta informação, assinale a alternativa que contenhas apenas exemplos de hardware.

- Windows, mouse, teclado.
- PowerPoint, mouse, teclado.
- memória RAM, processador, word.
- memória RAM, processador, monitor.

Questão 49

Observe as imagens abaixo:

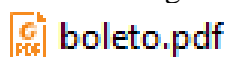


As imagens apresentadas representam:

- Navegadores de internet.
- Google Chrome.
- Firefox.
- Servidor de internet.

Questão 50

Observe a imagem abaixo:



Para abrir este tipo de arquivo podemos utilizar o programa

- Adobe Reader.
- Winrar.
- Excell.
- PowerPoint.

Questão 51

A noiva “é a mais nova plebeia a ser tornar membro da realeza britânica, concretizando o enlace que nas últimas semanas tomou conta do noticiário no mundo todo. O arcebispo de Canterbury, Justin Welby, líder espiritual da Igreja Anglicana, tomou os votos matrimoniais dos noivos, que passaram grande parte da cerimônia de mãos dadas. Michael Curry, o bispo presidente da Igreja Episcopal dos EUA, fez um sermão sobre o amor e citou ativista negro Martin Luther King. A cerimônia teve diversos momentos emocionantes, como o sermão do bispo americano Michael Curry e a versão da música "Stand By Me" cantada por um coro gospel.” O noivo é o sexto na linha de sucessão ao trono do Reino Unido. Disponível em <https://g1.globo.com/mundo/noticia/palacio-de-kensington-divulga-fotos-oficiais-do-casamento.ghtml> - Postado em 21/05/2018, 10h54min.

O texto trata do casamento de:

- Príncipe William e Kate Middleton
- Príncipe Harry e Meghan Markle
- Príncipe Charles e Lady Diana Spencer
- Príncipe Harry e Kate Middleton

Questão 52

“Violentas explosões” ocorreram sexta-feira (18/05/2018) nos hangares de um aeroporto militar do regime de Bashar al-Assad na província de Hama”. O texto acima retrata o conflito em qual país?

- Síria
- Irã
- Damasco
- Iraque

Questão 53

A Infraero informou na manhã do dia 26/05/2018 que falta combustível em pelo menos 11 aeroportos do país. Segundo a estatal, os aeroportos não estão fechados, podem receber pousos e fazer decolagens. O combustível não chegou aos aeroportos por causa:

- da paralização das refinarias
- da greve dos petroleiros
- da intervenção militar nos aeroportos do Rio de Janeiro
- da greve dos caminhoneiros

Questão 54

Bebida com origem na Etiópia era consumida como um fruto cru antes de ser prensado e dar origem ao líquido que hoje faz parte da vida dos brasileiros. Segundo informações divulgadas no

site <https://g1.globo.com>, ela é a bebida mais consumida pelo brasileiro, depois da água:

- cerveja
- chá
- café
- guaraná

Questão 55

O modelo brasileiro de composição dos Ministros do Supremo Tribunal Federal é inspirado no sistema Americano. Assim, para que uma pessoa ocupe o cargo de ministro da Suprema Corte, é necessária a indicação do Presidente da República. Após, a indicação o candidato ao cargo deve passar por uma sabatina no Senado Federal para enfim tomar posse. O indicado para ocupar a vaga aberta com a morte do Ministro Teori Zavascki foi:

- Alexandre de Moraes.
- Edson Fachin.
- Carmem Lúcia.
- Dias Tófoli.

Questão 56

O número de pessoas mortas em decorrência de intervenção policial no Estado aumentou 26,3% em abril desse ano, em relação ao mesmo período de 2017. Foram 80 registros em abril do ano passado e 101 no mesmo mês deste ano. Os números são do Instituto de Segurança Pública (ISP). Também houve aumento dos índices de homicídios dolosos. Foram 436 casos em abril do ano passado e 475 em abril deste ano. Nesta quarta-feira (16), a intervenção federal na segurança pública completou três meses. Os registros de letalidade violenta – onde, além de homicídio doloso, são computados os casos de latrocínio, lesão corporal seguida de morte e homicídio decorrente de oposição à intervenção policial - também subiram 9,8%: foram 539 ocorrências em abril de 2017 e 592 em 2018. Por outro lado, outros crimes diminuíram. Foi o caso da morte de policiais civis e militares em serviço – sete casos em abril de 2017 e 1 em abril de 2018 –, latrocínio – 22 registros em abril do ano passado e 14 no mesmo período desse ano – e roubo de veículos – 4.891 ocorrências em abril de 2017 e 4.657 em abril de 2018, ou seja uma redução de 4,8%. O ISP também registrou redução de 12,6% nos números de roubos de rua – 12.654 casos em abril de 2017 e 11.057 em abril de 2018 –, 13,6% menos roubos de cargas – 1.032 casos em abril do ano passado e 892 no mesmo mês deste ano – e 18,9% de queda nos índices de roubo a residências – 127 em abril de 2017 e 103 no mesmo período

de 2018. Fonte: <https://g1.globo.com/rj/rio-de-janeiro/noticia/numero-de-mortes-por-intervencao-policial-no-rj-tem-aumento-de-263.ghtml>

O texto acima trata da intervenção Federal em qual Estado?

- Rio Grande do Sul
- Bahia
- Rio de Janeiro
- Rio Grande do Norte

Questão 57

Bebedouro é um município brasileiro do estado de São Paulo. Localiza-se a uma latitude 20°56'58" Sul e a uma longitude 48°28'45" Oeste, estando a uma altitude de 573 metros. Situada na região Norte do estado de São Paulo, faz parte da microrregião da Serra de Jaboticabal e da Mesorregião de Ribeirão Preto. Fonte: [https://pt.wikipedia.org/wiki/Bebedouro_\(S%C3%A3o_Paulo\)](https://pt.wikipedia.org/wiki/Bebedouro_(S%C3%A3o_Paulo)) – acesso em 20/05/2018

Bebedouro limita-se com os seguintes municípios:

- Colina, Paraíso, Viradouro, Monte Azul Paulista e Palmares Paulista.
- Colina, Pirangi, Jaboticabal, Pitangueiras e Terra Roxa.
- Taiuva, Paraíso, Taquaral, Viradouro e Monte Alto.
- Pirangi, Taiacu, Taquaral, Pitangueiras e Viradouro.

Questão 58

Segundo informações do site oficial da Prefeitura na internet (Fonte: <https://www.bebedouro.sp.gov.br/portal/index.php/bebedouro/historia> – Acesso em 21/05/2018), Bebedouro nasceu de um sonho a céu aberto, à beira de um córrego, cuja água era procurada por tropeiros e boiadeiros, animais fatigados por longas caminhadas através do sertão. Os primeiros ocupantes do local tiveram a idéia de comprar um lote de terra para a formação do patrimônio de uma povoação que nascia, cujo primeiro nome seria:

- São Sebastião do Bebedor
- São João do Bebedor
- Distrito de São João
- Bebedor

Questão 59

O Estado brasileiro é dividido em três esferas de poder: Poder Executivo, Legislativo e Judiciário. O chefe do Poder Executivo Federal é o Presidente da República, eleito pelo voto direto para um

mandato de quatro anos, renovável por mais quatro. Na esfera estadual o Executivo é exercido pelos governadores dos estados; e na esfera municipal pelos prefeitos. Em âmbito federal o Poder Legislativo é:

- exercido pela Câmara dos Deputados a qual possui 513 integrantes, eleitos pelos estados federados, proporcionalmente à população de cada um, para mandato de 4 anos.
- exercido pelo Congresso Nacional, sendo ele bicameral: formado pela Câmara dos Deputados e o Senado Federal. A Câmara representa a população, e é composta por Deputados Federais eleitos para mandato de 4 anos. O Senado Federal representa os Estados federados e o Distrito Federal, sendo que cada um deles elege três senadores para mandato de 8 anos.
- exercido pelo Senado Federal o qual possui 81 senadores, eleitos pelos Estados federados e pelo Distrito Federal, para mandato de 4 anos.
- exercido pelo Congresso Nacional, sendo ele bicameral: formado pela Câmara Alta e Câmara Baixa. A Câmara Alta representa a população, e é composta por Deputados Federais eleitos para mandato de 4 anos. A Câmara baixa representa os Estados federados e o Distrito Federal, sendo que cada um deles elege três senadores para mandato de 4 anos.

Questão 60

Considere que Minie é servidora do Município, desenvolvendo suas atividades no departamento de tributação. Para cumprir o princípio da eficiência, que rege a Administração Pública, Minie conhece bem o funcionamento de seu setor. Por isso ela é eficiente, interessada e atenciosa no trabalho. Mesmo tendo que ignorar algumas normas, Minie faz de tudo para atender com presteza e cordialidade os usuários do serviço público, de modo que todos fiquem satisfeitos com o atendimento recebido. Nessa situação hipotética:

- Mesmo tendo boas intenções, a atitude de Minie é contrário ao correto comportamento profissional.
- A atitude de Minie não é contrária à ética do trabalho, pois o servidor deve sempre beneficiar o usuário do serviço público.
- Se houve boa intenção a atitude de Minie é correta.
- A atitude de Minie é correta, pois seu superior hierárquico tinha conhecimento do comportamento profissional da servidora e a incentivou.